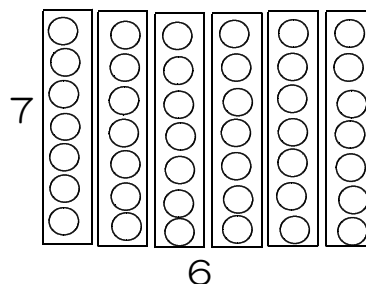


3年 組 番

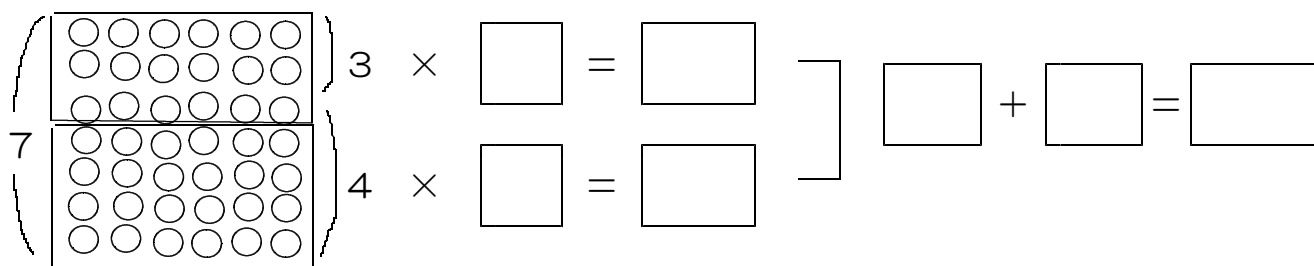
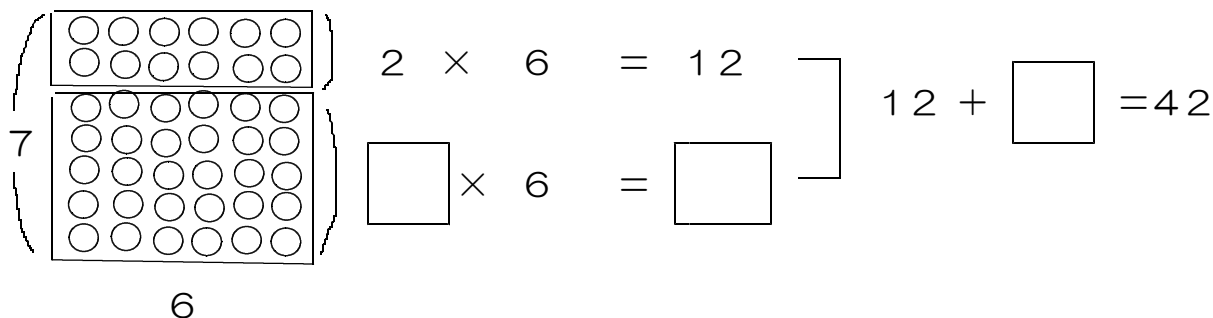
④ 7×6 の答えを右の図を使ってもとめましょう。

$$7 \times 6 = \square$$

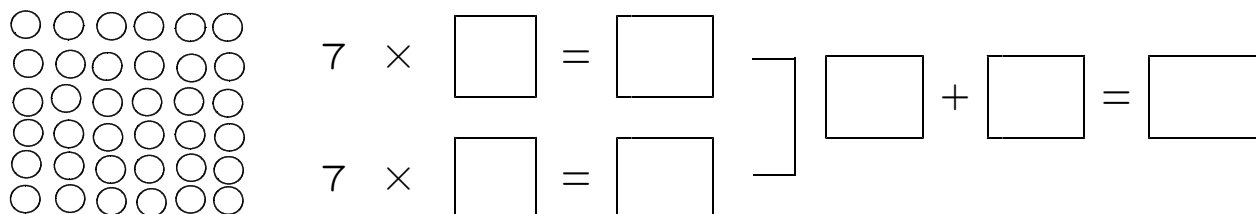


⑤ かけ算の答えをかけられる数やかけられる数を分けてもとめよう。

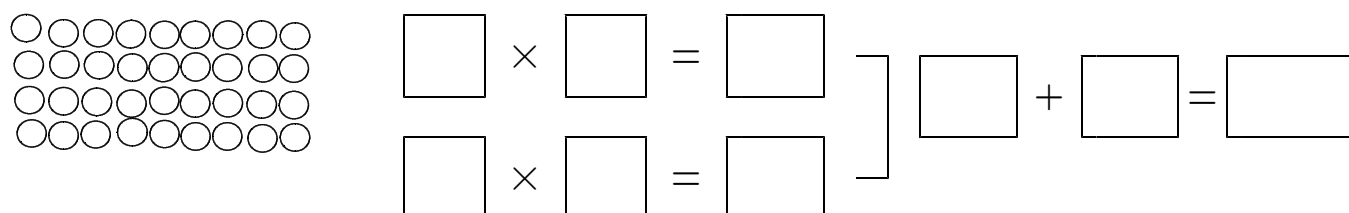
○ かけるられる数の7を分けて考えましょう。



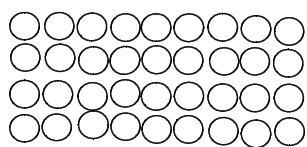
○ かける数の6を分けて考えましょう。



⑥ 4×9 の答えも、同じように数を分けてもとめられるかな？



★ ほかの分け方でももとめてみよう。



$$\square \times \square = \square$$

$$\square \times \square = \square$$

$$\square + \square = \square$$

★ ↓教科書13ページの真ん中の赤わくの中をかこう

ま かけ算では（ ）や（ ）を分けて計算しても、
 答えは（ ）になります。

2

$$9 \times 8 \quad \left[\begin{array}{l} 3 \times 8 = 24 \\ \square \times 8 = \square \end{array} \right] \square$$

ふりかえり（新しくわかった・べんりだなと思ったこと・次に考えてみたいことをかこう）